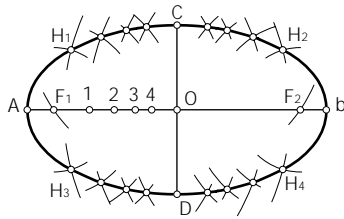
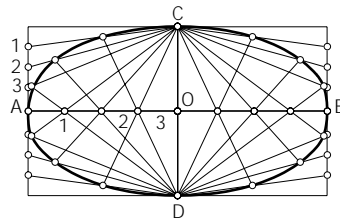


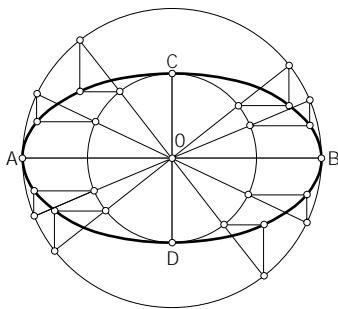
a Construye la elipse por puntos.



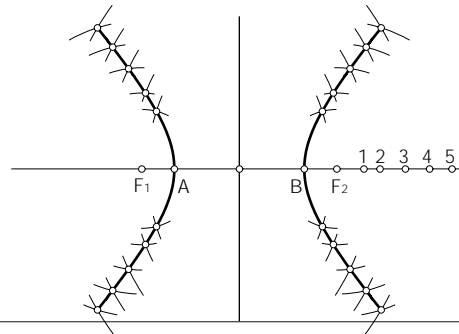
d Construye la elipse por haces de rectas.



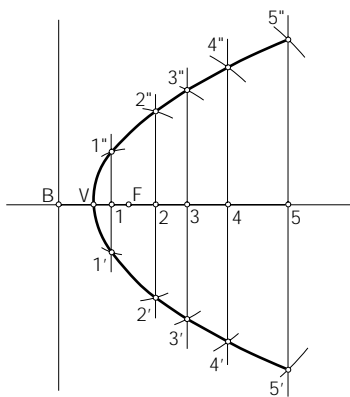
b Construye la elipse por homología.



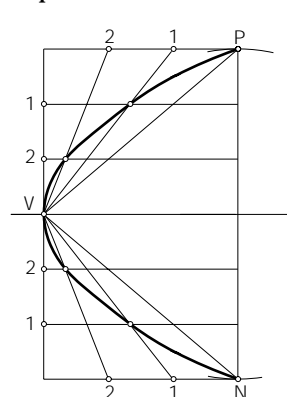
e Construye una hipérbola dado el eje AB y la distancia focal.



c Construye una parábola dado el foco y la directriz.



f Construye una parábola dado el eje, el vértice V y un punto P de la curva.



| | | | | | |
|---------------|---|------------------|-------------|----------------------------|--------------|
| Centro | | Alumno/a: | | | n.º |
| Escala | Tema: Elipse, parábola, hipérbola | Curso | Nota | Actividad n.º 22 | Fecha |