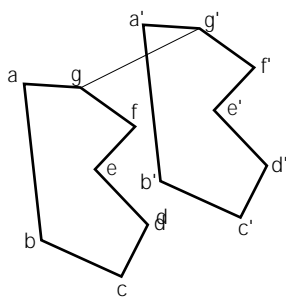


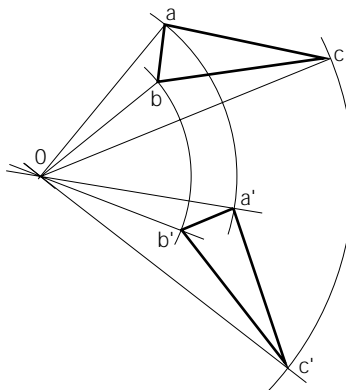
Unidad 4 Transformaciones geométricas

Realiza las siguientes transformaciones por:

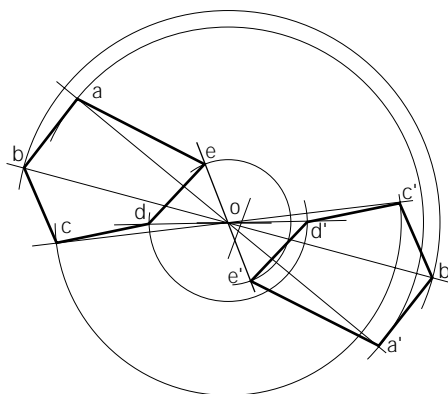
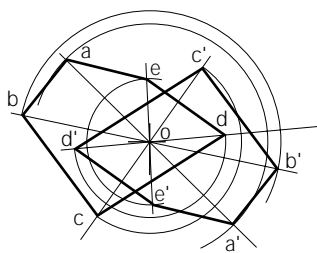
a Traslación.



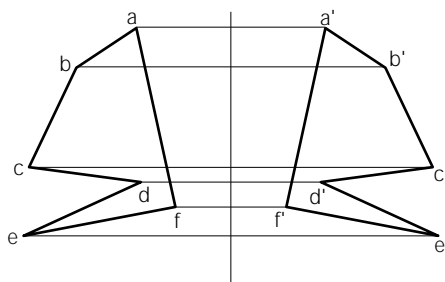
d Rotación de un ángulo de 60°.



b Simetría central.



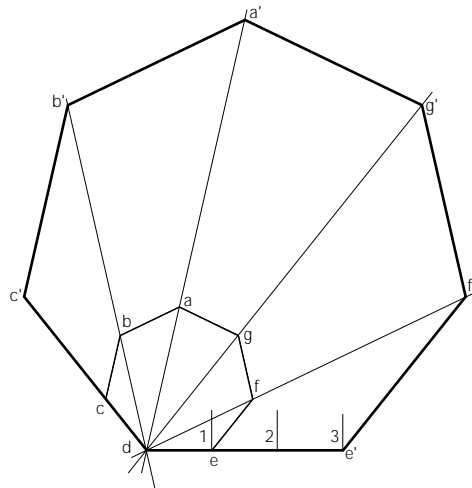
c Simetría axial.



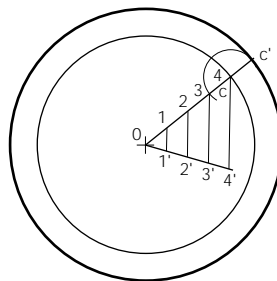
Centro		Alumno/a:			n.º
Escala	Tema: Traslación, simetría, rotación	Curso	Nota	Actividad n.º 12	Fecha

Unidad 4 Transformaciones geométricas

a Construye un polígono semejante a otro de razón de semejanza 4/1.



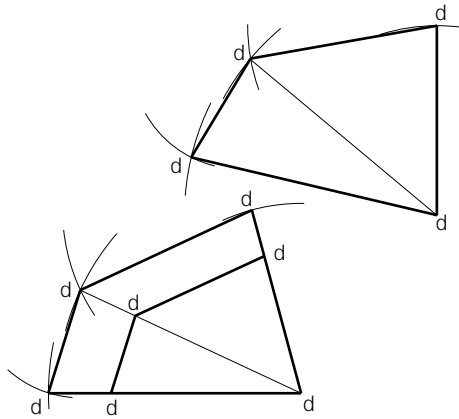
b Construye una circunferencia semejante a otra de razón 4/5.



Centro		Alumno/a:			n.º
Escala	Tema: Semejanza 1	Curso	Nota	Actividad n.º 13	Fecha

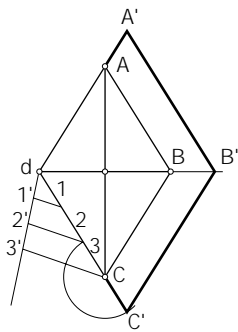
Unidad 4 Transformaciones geométricas

Dibuja un cuadrilátero semejante a ABCD, situando el lado correspondiente a BC en la posición B'C'.

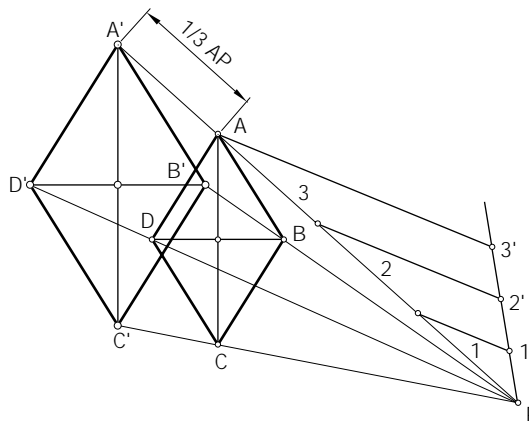


A partir de un rombo de diagonales a y b dibuja otro rombo semejante de razón 4:3.

Primer método



Segundo método



Centro		Alumno/a:			n.º
Escala	Tema: Semejanza 2	Curso	Nota	Actividad n.º 14	Fecha