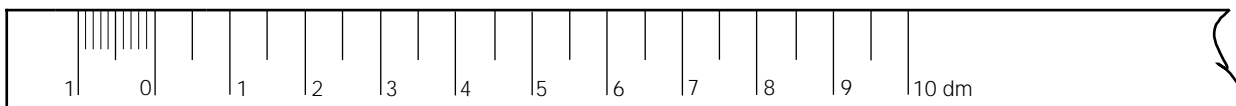


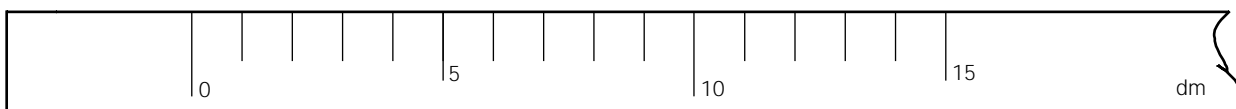
Unidad 2 Proporcionalidad y semejanza. Escalas

Construye las siguientes escalas gráficas.

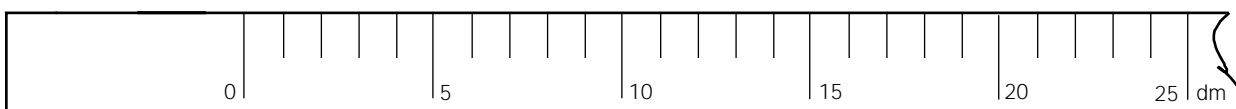
Escala 1 : 10



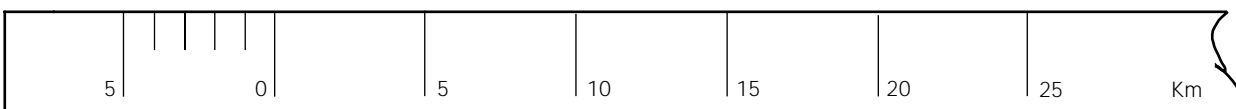
Escala 1 : 15



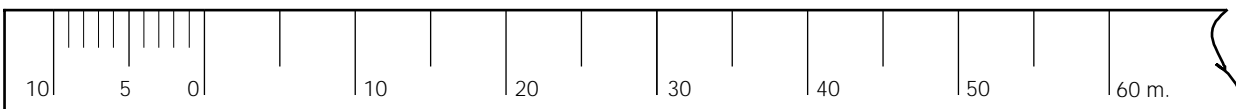
Escala 1 : 20



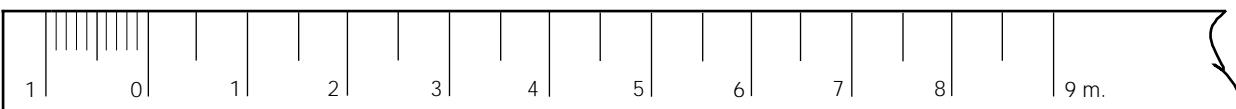
Escala 1 : 250.000



Escala 1 : 500



Escala 1 : 75



Centro

Alumno/a:

n.º

Escala

Tema:
Escalas

Curso

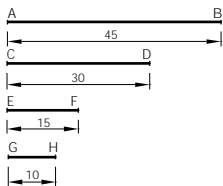
Nota

Actividad n.º
6

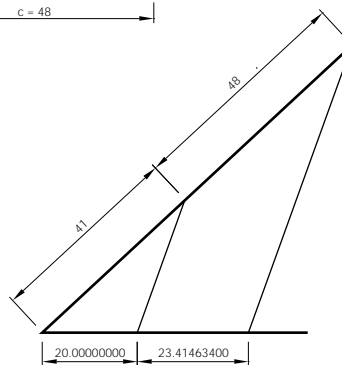
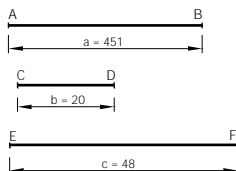
Fecha

Unidad 2 Proporcionalidad y semejanza. Escalas

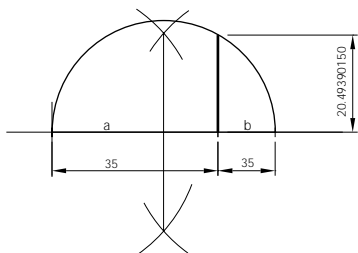
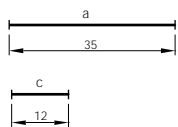
a Comprobar si el segmento AB y CD son proporcionales a los segmentos EF y GH.



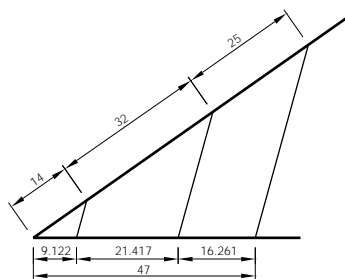
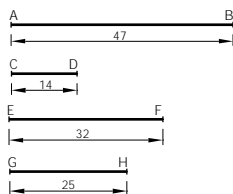
c Calcular la tercera proporción de los segmentos siguientes.



b Hallar la media proporcional entre dos segmentos a y c.



d Dividir un segmento AB en partes proporcionales a otros segmentos dados CD, EF, GH.



Centro		Alumno/a:			n.º
Escala	Tema: Proporcionalidad	Curso	Nota	Actividad n.º 5	Fecha